

- 245
- 4
- А) Бензин, дизельное топливо
 - Б) Лаки и краски
 - В) Электропроводку
 - Г) Торф

Определите несколько правильных ответов.

17. Какие из перечисленных требований безопасности позволят уберечься от клещевого энцефалита в лесу?

- 2
- А) залезать в норы и дупла руками, одетыми в перчатки
 - Б) заправлять длинные брюки в голенище сапог (в обувь)
 - В) регулярно проводить само- и взаимоосмотры
 - Г) избегать мест, где много опавших плодов
 - Д) одевать головной убор
 - Е) остерегаться густой травы и низкорослого кустарника

18. Какие из перечисленных требований пожарной безопасности следует соблюдать при выборе места для разведения костра?

- 3
- А) место разведения костра должно быть хорошо проветриваемым
 - Б) место разведения костра должно быть ровным
 - В) место разведения костра должно находиться не далее чем в 10 метрах от водоёма
 - Г) место разведения костра должно быть очищено от травы, листьев и т. п.
 - Д) место разведения костра должно быть обложено поленьями
 - Е) место разведения костра должно быть окопано.

19. Какие из перечисленных косвенных признаков указывают на то, что растение съедобно для человека?

- 2
- А) кора растения обглодана животными
 - Б) растение имеет плоды с яркой окраской
 - В) растение имеет небольшую высоту
 - Г) плоды растения поклёваны птицами
 - Д) растение имеет засохшее основание
 - Е) у основания растения множество косточек
 - Ж) плоды растения обнаружены в гнёздах
 - З) растение имеет приятный запах

20. Укажите направления, угол между которыми является азимутом.

- 1
- А) на юг
 - Б) на ориентир
 - В) на север
 - Г) на запад
 - Д) на световой ориентир

21. Какие действия необходимо выполнить для оказания первой помощи при носовом кровотечении?

- А) наклонить голову вперёд
- Б) запрокинуть голову назад
- В) повернуть голову набок
- Г) приложить холод к переносице
- Д) приложить тепло к переносице

22. Укажите правильные действия при захвате в заложники:

- 3
- А) Не отвечать на вопросы террористов.
 - Б) На все действия спрашивать разрешения.
 - В) Незаметно занять другое, более удобное место.
 - Г) Выполнять все требования преступников.
 - Д) Не смотреть в глаза террористам.

Е) Терпеть оскорбления и унижения.

23. Каковы признаки отравления ядовитыми растениями, ягодами, грибами?




- 3
- А) Бледность, одышка.
 - Б) Боль в животе.
 - В) Частый жидкий стул.
 - Г) Потливость, стеснение в груди.
 - Д) Тошнота, рвота.

Теоретические задания.

Задание 1. Укажите стрелками соответствие между изображением дорожного знака и его названием

Максимальное количество баллов – 10 баллов.




2

		Запрещение движения на велосипеде
		Конец велосипедной дорожки
		Начало велосипедной дорожки
		Пересечение с велосипедной дорожкой или велосипедной дорожкой
		Пешеходная дорожка

Задание 2. Укажите стрелками соответствие между изображением знаком пожарной безопасности и его названием. Максимальное количество баллов – 10 баллов.

2

	1	Направление к эвакуационному выходу
---	---	-------------------------------------

2			Пожарный кран
2			Огнетушитель 1
2			Пожарный гидрант
			Звуковой оповещатель пожарной тревоги

$$335 + 245 = 575$$

Задание 3.

Находясь в своей квартире, Вы обнаружили пожар на кухне (возгорание произошло от включенной электроплиты). Опишите безопасные действия в данных условиях.

Максимальное количество баллов – 20 баллов.

1. вызвать 112
2. закрывать окна
3. отключить плиту
4. открыть пожарные двери на лестнице
5. спуститься по лестнице

Задание 4.

Опишите правила поведения из четырех пунктов при обнаружении подозрительной вещи (предмета).

Максимальное количество баллов – 12 баллов.

1. вызвать взрослых
2. отдать водителю
- 3.
- 4.